

De Nederlanders en hun vakantiebestemmingen

bron 1

De wereld



bron 2

Vier vakantiefoto's

foto 1




foto 2



foto 3



foto 4



- 2p 1 In een aardrijkskundeles laat de docent vier verschillende foto's zien (zie bron 2) die genomen zijn tijdens diverse vakanties over de hele wereld. Hij vraagt aan de klas of ze de foto's op de juiste plek op de wereldkaart (zie bron 1) kunnen zetten.
- Neem de nummers van de foto's over op het antwoordblad en zet er de juiste letter achter van de plaats op de kaart.
- 1p 2 Bij welke bestemming uit bron 1 is het tijdsverschil met Nederland het **kleinst**?
- A bij A
 - B bij B
 - C bij C
 - D bij D

bron 3

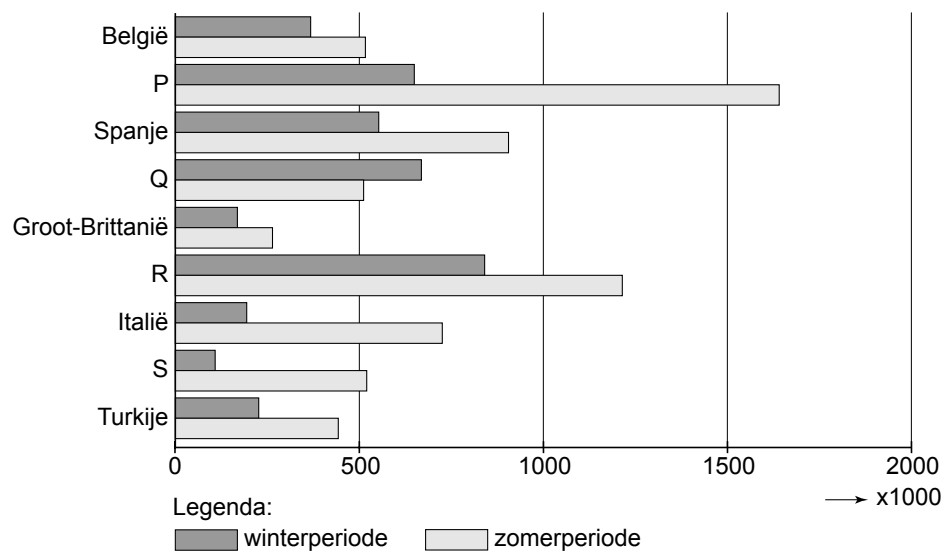
Op vakantie in de jaren '50 en '60 van de vorige eeuw



- 1p 3 In bron 3 is te zien hoe gezinnen eind jaren '50 begin jaren '60 van de vorige eeuw op vakantie gingen.
→ Noem een verschil met hoe Nederlandse gezinnen tegenwoordig vaak op vakantie gaan.
- 1p 4 Sinds de jaren '50 en '60 van de vorige eeuw is de vakantieparticipatie in Nederland toegenomen.
Hoe groot is de vakantieparticipatie in de periode 2002 tot en met 2008?
A ongeveer 50%
B ongeveer 60%
C ongeveer 70%
D ongeveer 80%
- 1p 5 In 2009 ging het in Nederland economisch minder goed dan in 2008. Welk gevolg heeft dit gehad voor de Nederlandse vakanties in 2009 in vergelijking met 2008?
A Nederlanders boekten in verhouding meer korte dan lange vakanties.
B Nederlanders boekten in verhouding meer treinvakanties dan autovakanties.
C Nederlanders gingen meer naar Australië dan naar Thailand.
D Nederlanders gingen meer op wintersportvakantie dan op zomervakantie.
- 2p 6 Tegenwoordig gaan meer Nederlanders op vakantie dan vroeger.
→ Noem de twee redenen.

bron 4

Aantal lange vakanties van Nederlanders in het buitenland per land van bestemming, naar seizoen, 2009



- 2p 7 In bron 4 is op vier plaatsen de naam van het betreffende vakantieland weggelaten en vervangen door de letters P, Q, R en S. In willekeurige volgorde gaat het om Duitsland, Frankrijk, Griekenland en Oostenrijk.
→ Noteer de letters P, Q, R en S op het antwoordblad en schrijf het juiste vakantieland erachter.
- 1p 8 In bron 4 zijn alleen de lange vakanties aangegeven.
Welk van de volgende landen heeft het hoogste aantal korte vakanties van Nederlanders?
A België
B Groot-Brittannië
C Spanje
- 1p 9 Bij buitenlandse vakanties van Nederlanders is de auto het favoriete vervoermiddel om de bestemming te bereiken.
Bij welk land uit bron 4 speelt de auto als vervoermiddel naar de bestemming het **minst** een rol?
A Italië
B Spanje
C Turkije
- 1p 10 In bron 4 zie je een land met in totaal (winter en zomer samen) het kleinste aantal lange vakanties van Nederlanders.
→ Welk land wordt hier bedoeld en noem een reden waarom dit land minder Nederlandse toeristen trekt dan de andere landen.

bron 5

Twee populaire bestemmingen van de Nederlanders

Pak nu deze unieke lastminute

Kreta: Gouves park ** All-inclusive**

Het hotel is gelegen in het dorpje Gouves en op 300 meter van het zandstrand. Dit hotel bestaat uit meerdere gebouwen, waarin de diverse type kamers zijn ondergebracht. Het geheel vormt een mooi resort dat over alle faciliteiten beschikt om een geslaagde vakantie te bieden. Zoals zonneterras, 3 poolbars, Griekse taverne en Nederlands sprekende animatie.

U verblijft op basis van all-inclusive.



van € 949

nu voor

€ 499 per persoon

2 volwassenen + 2 kinderen:
totaalprijs van € 3.069
nu voor € 1.899

vertrek 12 juli - 19 juli

Vakantietopper

Turkije

Sealight Resort *****

Ultra All-inclusive

va. **€ 499** per persoon per week

vertrek 28 sept. t/m 15 okt.

+ 19 t/m 31 okt.

Vertrek 16 t/m 18 okt € 649



“In één woord geweldig”, “Een aanrader voor allen”, “Een hotel dat zijn sterren waard is”, “Mooi, modern hotel, zeer mooi zwembad, vriendelijk personeel”, “De spa en wellness was helemaal het einde!”, “Eten heel lekker en genoeg variatie” ...en zo kunnen wij nog wel even doorgaan met de reacties van gasten die in Sealight Resort verbleven. Wilt u ook genieten van de vele faciliteiten die Sealight Resort u te bieden heeft, boek dan nu nog dit hotel want voor de prijs hoeft u het niet te laten!

- 1p 11 Tijdens een aardrijkskundeles laat een docent advertenties zien van twee populaire vakantiebestemmingen (zie bron 5).
Naar aanleiding van deze advertenties doet Ibrahim de volgende drie uitspraken:
- 1 Beide bestemmingen zijn “verre bestemmingen”.
 - 2 Beide bestemmingen zijn voorbeelden van massatoerisme.
 - 3 Beide advertenties richten zich op het hoogseizoen.
- Welke uitspraak is of welke uitspraken zijn juist?
- A alleen 1
 - B alleen 2
 - C alleen 3
 - D alleen 1 en 2
 - E alleen 1 en 3
 - F alleen 2 en 3

bron 6

Een reis naar St. Petersburg

St. Petersburg: in de voetsporen van de Tsaren

Het prachtige en statige Sint Petersburg spreekt bij velen tot de verbeelding. Dit 'Venetië van het Noorden' lijkt verdacht veel op ons eigen Amsterdam, waar Tsaar Peter de Grote dan ook inspiratie opdeed voor zijn stad. St. Petersburg ligt aan de Finse Golf die in verbinding staat met de Oostzee. St. Petersburg is net als Amsterdam gegroeid door de belangrijke havenfunctie.

De unieke architectuur kreeg vorm onder Elizabeth en later onder Catharina II. Als 'venster naar Europa' en hoofdstad van het Russische Rijk van 1712 tot 1917, werd St. Petersburg de bakermat voor kunst en literatuur.

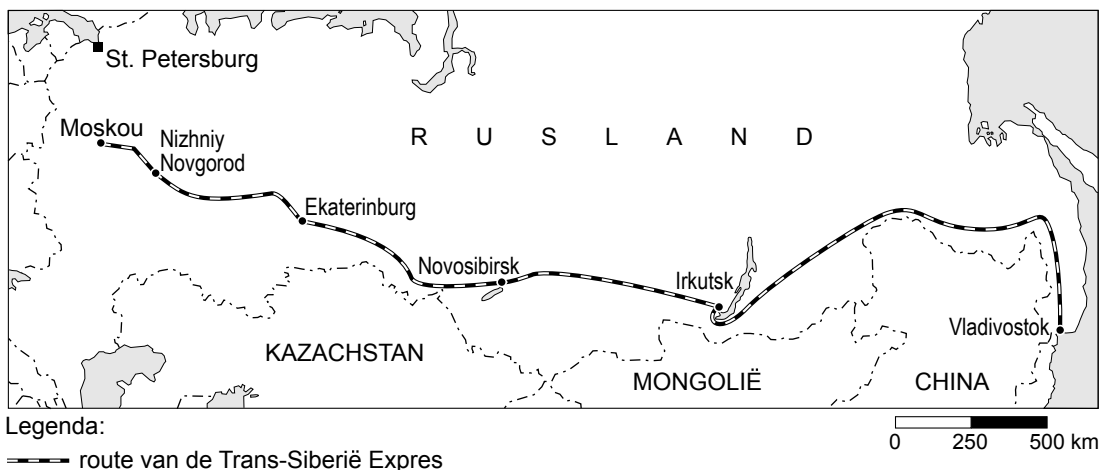
3 dagen**** Hotel Park Inn Pulkovskaya

Eén van de grootste hotels van St. Petersburg met veel faciliteiten voor zowel de zakenman als de toerist.

vanaf € 428.

bron 7

Een reis van Moskou naar Vladivostok met de Trans-Siberië Expres



bron 8

Een bijzondere treinreis met de Trans-Siberië Expres

Maak kennis met de uitgestrekte naaldwouden van Siberië en de gewoonten van de Mongoolse volkeren in het Aziatische deel van Rusland.

bron 9

Een excursie vanuit Kiev naar Tsjernobyl

Met twintig andere toeristen rijden we door het heuvelachtige landschap tussen de Oekraïense hoofdstad Kiev en Tsjernobyl, naar de kernreactor die op 26 april 1986 ontplofte. Er ontsnapte veel radio-actieve straling die gevaarlijk is. Nu mogen we als toerist gaan kijken wat de gevolgen zijn voor het landschap, planten en dieren. De trip met SoloEast Travel lijkt op tientallen andere 'ecological tours' die toeristenbureautjes in Kiev aanbieden. De prijs varieert, van 100 tot 1000 dollar. Daarvoor krijg je een dagretour met een bus en een gids.



In de voormalige Sovjet-Unie zijn er veel toeristische bestemmingen. Daaronder zijn heel bijzondere te vinden. In bron 6 tot en met 9 vind je een aantal van deze bestemmingen.

- 1p **12** Op grond van de bronnen 6 tot en met 9 kun je bij één van deze bestemmingen spreken van een korte vakantie en bij één van dagtoerisme. Bij één van de vakantiebestemmingen is het goed mogelijk natuur- en cultuurbeleving te combineren.

Wat is de juiste combinatie van bestemming en type vakantie?

	korte vakantie	dagtoerisme	combinatie natuur-cultuur
A	St. Petersburg	Siberië Expres	Tsjernobyl
B	St. Petersburg	Tsjernobyl	Siberië Expres
C	Siberië Expres	St. Petersburg	Tsjernobyl
D	Siberië Expres	Tsjernobyl	St. Petersburg
E	Tsjernobyl	St. Petersburg	Siberië Expres
F	Tsjernobyl	Siberië Expres	St. Petersburg

- 2p **13** De toerist moet bij sommige reizen in de winter rekening houden met extreem koud weer. De reis met de Trans-Siberië Expres wordt vanwege de koude zelfs afgeraden voor de wintermaanden.
Irkutsk heeft een gemiddelde januaritemperatuur van -30 graden Celcius! In St. Petersburg is het gemiddeld -8 graden Celcius.
→ Noem een oorzaak waardoor het in het meer zuidelijk gelegen Irkutsk in de winter toch kouder is dan in St. Petersburg (zie bron 6 en 7).
- 1p **14** De absolute afstand tussen Irkutsk en Vladivostok is kleiner dan de relatieve afstand over het spoor tussen beide plaatsen.
→ Noem hiervan een reden met behulp van bron 7.

bron 10

Een bijzondere vakantiebestemming in Namibië in Afrika



Vakantie in Namibië

Weidse uitzichten en pastelkleurige landschappen vormen het decor voor deze reis. U krijgt een eigen auto en u verblijft in comfortabele lodges van een internationale hotelketen met een zwembad en airco ter verkoeling. U reist door ongelooflijke woestijnlandschappen met de hoogste zandduinen ter wereld. U maakt uitgebreid kennis met de manier van leven van de traditionele Himba-stam. Ook ziet u in het noorden woestijnolifanten, zwarte neushoorns, gemsbokken in een land van zoutpannen. Betoverende schoonheid.

- 2p **15** In bron 10 wordt een vakantiebestemming beschreven.
→ Welke drie begrippen zijn op deze vakantie van toepassing? Kies uit de volgende begrippen:
- cultuurvakantie
 - duurzaam toerisme
 - massatoerisme
 - natuurvakantie
 - verre bestemmingen
- Noteer de juiste begrippen op het antwoordblad.
- 1p **16** Welk nadeel heeft deze reis voor de lokale bevolking in Namibië?

bron 11

Bali gewaarschuwd voor watercrisis

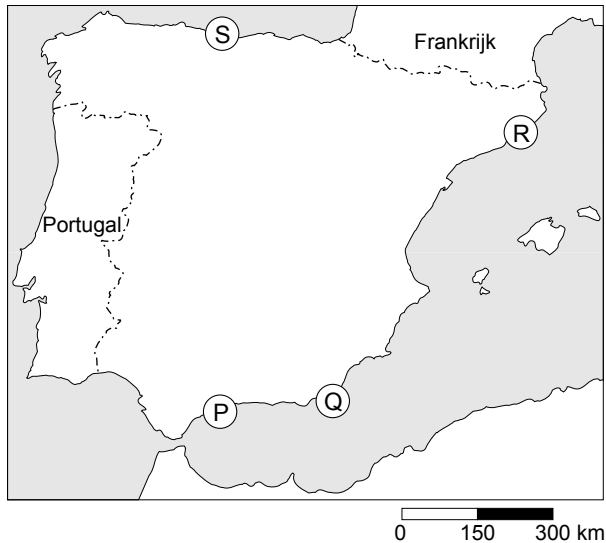
Bali in Indonesië is bekend om de vriendelijke bevolking, de Hindoestaanse cultuur en de prachtige terrassen met geïrrigeerde rijstvelden. Het eiland ontvangt jaarlijks veel Westerse toeristen. De snelle bevolkingsgroei en de groei van het toerisme op Bali, kan gaan leiden tot een ernstige watercrisis op het eiland. Hotels en grote vakantieresorts op 15 toeristische plekken hebben het grondwater teveel uitgeput waardoor de beschikbare watervoorraden sterk verminderd zijn.

De overheid in Bali heeft onlangs nieuwe wetten opgesteld om overmatig gebruik van water tegen te gaan. Maar er worden nog steeds nieuwe toeristenplaatsen tot ontwikkeling gebracht en het aantal bezoekers neemt alleen nog maar toe. Een lichtpuntje is dat de nieuwe nederzettingen tot nu toe vrij klein zijn. Er is een bouwvoorschrift dat de bebouwing nergens hoger mag zijn dan een kokospalm (drie tot vier etages). Daarbij komt dat veel hotels gebouwd zijn in Balinese stijl en in mooie tuinen gelegen zijn.

- 1p **17** In de tekst van bron 11 wordt gesproken over een watercrisis in Bali. Het Indonesische eiland Bali ligt dicht bij de evenaar.
→ Waarom verwacht je bij deze geografische ligging eigenlijk geen watertekort op het eiland?
- 1p **18** Het watertekort kan, naast de toeristenindustrie, ook een andere belangrijke economische activiteit op Bali treffen.
→ Welke activiteit zal dit zijn?
- 1p **19** De overheid in Bali heeft jarenlang de grote hotelketens hun gang laten gaan bij het winnen van grondwater. Naast het teveel gebruik van water ontstaan er nog meer problemen als veel toeristen bij elkaar in hotels verblijven.
→ Noem een voorbeeld van een milieuprobleem dat dan kan ontstaan.
- 1p **20** Naast het aantasten van de natuur kan een stijgend aantal toeristen op Bali ook een negatief effect hebben op de cultuur.
→ Geef een voorbeeld van een negatief effect op de Balinese cultuur.
- 1p **21** In de tekst van bron 11 wordt gesproken over een bouwvoorschrift voor hotels. Wat probeert de overheid in Bali te bereiken met dit bouwvoorschrift?
A het tegengaan van betonkusten
B het tegengaan van natuurrampen
C het verminderen van strandtoerisme
D het verminderen van cultuurtoerisme
- 1p **22** De komst van nieuwe hotels kan een positief effect hebben voor de plaatselijke economie op Bali.
→ Noem een reden waarom de lokale bevolking niet altijd voordeel heeft van de komst van nieuwe hotels en toeristen.

bron 12

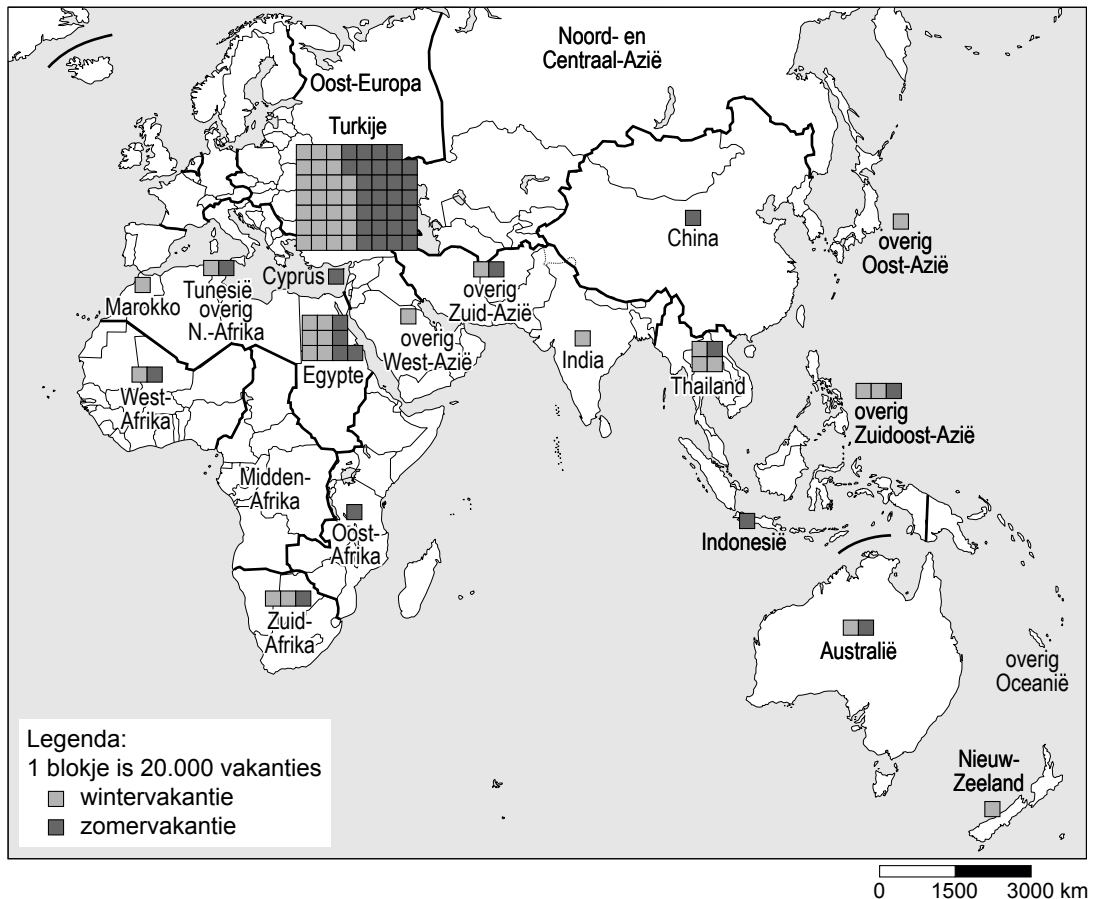
Spanje



- 1p **23** Met welke letter is in het kaartje van bron 12 de Costa Brava aangegeven?
- A** P
 - B** Q
 - C** R
 - D** S
- 1p **24** In de jaren negentig nam het aantal toeristen naar de Spaanse Costa's af. Dit kwam onder andere doordat de Spaanse Costa's concurrentie kregen van andere landen. Van welke twee andere landen aan de Middellandse Zee kregen de Spaanse Costa's vooral concurrentie?
- A** Turkije en Griekenland
 - B** Turkije en Italië
 - C** Griekenland en Italië
 - D** Italië en Egypte
- 1p **25** De Spaanse Costa's raakten eind vorige eeuw in verval als toeristengebied. Ze hadden last van een negatieve beeldvorming bij veel toeristen. De Spaanse Costa's bieden nu ook andere soorten vakanties aan. Hiermee hopen zij het negatieve beeld weg te nemen en weer meer toeristen te trekken. Welk soort reizen wordt hier bedoeld?
- A** culturreizen naar kuststeden zoals Barcelona met uitstapjes naar het binnenland
 - B** goedkope strandvakanties voor jongeren met aanbiedingen voor het uitgaansleven
 - C** korte vakanties in de hoofdstad Madrid met een bezoek aan een voetbalwedstrijd van Real Madrid
 - D** trektochten in het Spaanse hooggebergte met verblijf in berghutten

bron 13

Aantal vakanties van Nederlanders naar verre bestemmingen



- 1p 26 In bron 13 staat het aantal vakanties van Nederlanders naar verre bestemmingen.
Als je naar Nieuw-Zeeland kijkt, valt het op dat de meeste Nederlanders daar in de Nederlandse winter naartoe gaan.
→ Wat zal de reden zijn waarom Nieuw-Zeeland vooral in de Nederlandse winter het meest bezocht wordt?
- 1p 27 In bron 13 is te zien dat Egypte en Zuid-Afrika de meest populaire vakantiebestemmingen zijn van Nederlanders in Afrika. Er is wel een verschil in het soort vakantie die Nederlanders in beide landen doorbrengen.
→ Welk verschil in soort vakanties wordt hier bedoeld?

Bronvermelding

Een opsomming van de in dit examen gebruikte bronnen, zoals teksten en afbeeldingen, is te vinden in het bij dit examen behorende correctievoorschrift, dat na afloop van het examen wordt gepubliceerd.